

**Апробация контрольных измерительных материалов
для проведения в 2015 году единого государственного экзамена
по МАТЕМАТИКЕ**

Базовый уровень

Вариант №166081

Инструкция по выполнению работы

Работа включает в себя 20 заданий.

На выполнение работы отводится 3 часа (180 минут).

Ответы к заданиям записываются в виде числа или последовательности цифр. Запишите ответы к заданиям в поле ответа в тексте работы, а затем перенесите в бланк ответов № 1 справа от номера соответствующего задания. Если ответом является последовательность цифр, то запишите эту последовательность в бланк ответов № 1 без пробелов, запятых и других дополнительных символов.

Пример записи ответов.

В работе	На бланке																											
Ответ: <u>-0,6</u> .	<table border="1" style="border-collapse: collapse; text-align: center;"><tr><td style="width: 20px;">5</td><td style="width: 20px;">-</td><td style="width: 20px;">0</td><td style="width: 20px;">,</td><td style="width: 20px;">6</td><td style="width: 20px;"> </td><td style="width: 20px;"> </td><td style="width: 20px;"> </td><td style="width: 20px;"> </td><td style="width: 20px;"> </td><td style="width: 20px;"> </td><td style="width: 20px;"> </td><td style="width: 20px;"> </td><td style="width: 20px;"> </td><td style="width: 20px;"> </td><td style="width: 20px;"> </td><td style="width: 20px;"> </td><td style="width: 20px;"> </td><td style="width: 20px;"> </td></tr></table>	5	-	0	,	6																						
5	-	0	,	6																								
Ответ: <table border="1" style="border-collapse: collapse; text-align: center;"><tr><td style="width: 20px;">А</td><td style="width: 20px;">Б</td><td style="width: 20px;">В</td><td style="width: 20px;">Г</td></tr><tr><td style="width: 20px;">4</td><td style="width: 20px;">3</td><td style="width: 20px;">1</td><td style="width: 20px;">2</td></tr></table>	А	Б	В	Г	4	3	1	2	<table border="1" style="border-collapse: collapse; text-align: center;"><tr><td style="width: 20px;">9</td><td style="width: 20px;">4</td><td style="width: 20px;">3</td><td style="width: 20px;">1</td><td style="width: 20px;">2</td><td style="width: 20px;"> </td><td style="width: 20px;"> </td><td style="width: 20px;"> </td><td style="width: 20px;"> </td><td style="width: 20px;"> </td><td style="width: 20px;"> </td><td style="width: 20px;"> </td><td style="width: 20px;"> </td><td style="width: 20px;"> </td><td style="width: 20px;"> </td><td style="width: 20px;"> </td><td style="width: 20px;"> </td><td style="width: 20px;"> </td><td style="width: 20px;"> </td></tr></table>	9	4	3	1	2														
А	Б	В	Г																									
4	3	1	2																									
9	4	3	1	2																								

Все бланки ЕГЭ заполняются яркими чёрными чернилами. Допускается использование гелевой, капиллярной или перьевой ручек.

При выполнении заданий можно пользоваться черновиком. Записи в черновике не учитываются при оценивании работы.

Баллы, полученные Вами за выполненные задания, суммируются. Постарайтесь выполнить как можно больше заданий и набрать наибольшее количество баллов.

Обязательно проверьте в конце работы, что все ответы к заданиям части 1 перенесены в бланк ответов!

Желаем успеха!

Ответом к каждому заданию является конечная десятичная дробь, целое число или последовательность цифр. Запишите ответы к заданиям в поле ответа в тексте работы, а затем перенесите в бланк ответов № 1 справа от номера соответствующего задания. Если ответом является последовательность цифр, то запишите эту последовательность в бланк ответов № 1 без пробелов, запятых и других дополнительных символов. Каждую цифру, знак «минус» и запятую пишите в отдельной клеточке в соответствии с приведёнными в бланке образцами. Единицы измерений писать не нужно.

1 Найдите значение выражения $\frac{1}{\frac{1}{33} + \frac{1}{12}}$.

Ответ: _____.

2 Найдите частное от деления $1,6 \cdot 10^2$ на $8 \cdot 10^{-1}$.

Ответ: _____.

3 В начале года число абонентов телефонной компании «Юг» составляло 600 тыс. человек, а в конце года их стало 630 тыс. человек. На сколько процентов увеличилось за год число абонентов этой компании?

Ответ: _____.

4 Площадь треугольника со сторонами a , b , c можно найти по формуле Герона $S = \sqrt{p(p-a)(p-b)(p-c)}$, где $p = \frac{a+b+c}{2}$. Найдите площадь треугольника со сторонами 11, 13, 20.

Ответ: _____.

5 Найдите значение выражения $\log_5 2,5 + \log_5 10$.

Ответ: _____.

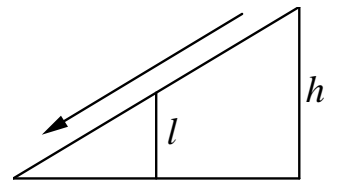
6 Сырок стоит 17 рублей 60 копеек. Какое наибольшее число сырков можно купить на 130 рублей?

Ответ: _____.

7 Найдите корень уравнения $-1 + 2x = 10x + 3$.

Ответ: _____.

8 Детская горка укреплена вертикальным столбом, расположенным посередине спуска. Найдите высоту l этого столба, если высота h горки равна 3 метрам. Ответ дайте в метрах.



Ответ: _____.

9 Установите соответствие между величинами и их возможными значениями: к каждому элементу первого столбца подберите соответствующий элемент из второго столбца.

ВЕЛИЧИНЫ

- А) масса куриного яйца
- Б) масса детской коляски
- В) масса взрослого бегемота
- Г) масса активного вещества в таблетке

ВОЗМОЖНЫЕ ЗНАЧЕНИЯ

- 1) 2,5 мг
- 2) 14 кг
- 3) 50 г
- 4) 3 т

В таблице под каждой буквой, соответствующей величине, укажите номер её возможного значения.

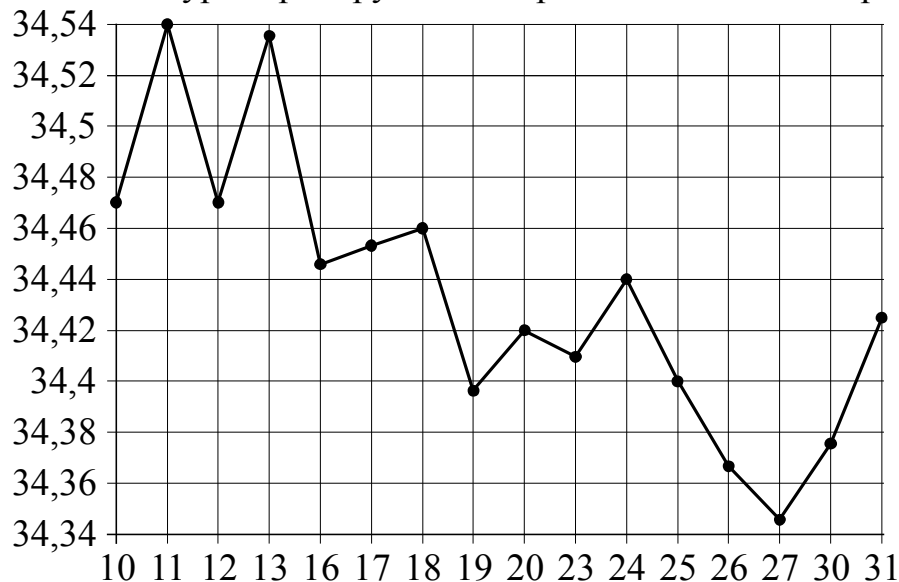
Ответ:

А	Б	В	Г

10 В среднем из 1300 садовых насосов, поступивших в продажу, 13 подтекают. Найдите вероятность того, что один случайно выбранный для контроля насос не подтекает.

Ответ: _____.

- 11** На рисунке жирными точками показан курс евро, установленный Центробанком РФ, во все рабочие дни в январе 2007 года. По горизонтали указываются числа месяца, по вертикали — цена евро в рублях. Для наглядности жирные точки на рисунке соединены линиями. Определите по рисунку наибольший курс евро в рублях в период с 16 по 27 января.



Ответ: _____.

- 12** Для обслуживания международного семинара необходимо собрать группу переводчиков. Сведения о кандидатах представлены в таблице.

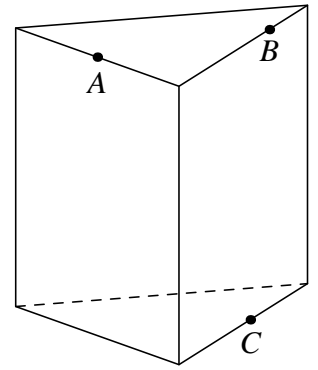
Номер переводчика	Языки	Стоимость услуг (руб. в день)
1	немецкий	4000
2	испанский	2050
3	французский	3000
4	французский, английский	5900
5	английский, немецкий	6900
6	французский, испанский	5900

Пользуясь таблицей, соберите хотя бы одну группу, в которой переводчики вместе владеют всеми четырьмя языками: английским, немецким, испанским и французским, а суммарная стоимость их услуг не превышает 12 000 рублей в день. В ответе укажите ровно один набор номеров переводчиков без пробелов, запятых и других дополнительных символов.

Ответ: _____.

13

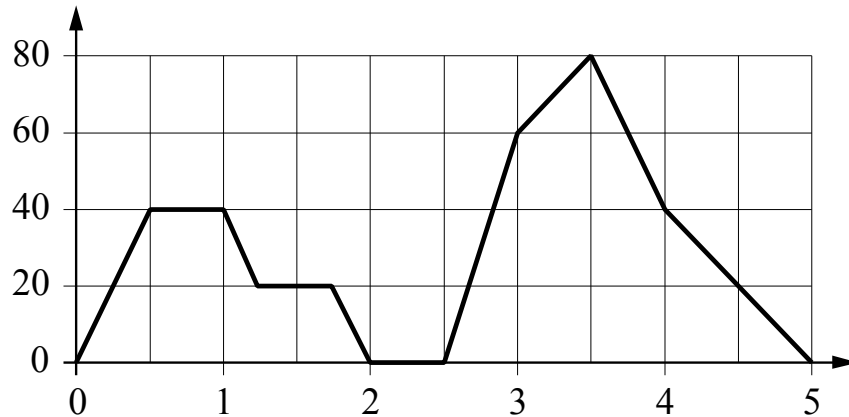
Плоскость, проходящая через три точки A , B и C , разбивает правильную треугольную призму на два многогранника. Сколько рёбер у многогранника, у которого больше вершин?



Ответ: _____.

14

На графике изображена зависимость скорости движения легкового автомобиля на пути между двумя городами от времени. На вертикальной оси отмечена скорость в км/ч, на горизонтальной — время в часах, прошедшее с начала движения автомобиля.



Пользуясь графиком, поставьте в соответствие каждому интервалу времени характеристику движения автомобиля на этом интервале.

ИНТЕРВАЛЫ ВРЕМЕНИ

- А) второй час пути
- Б) третий час пути
- В) четвёртый час пути
- Г) пятый час пути

ХАРАКТЕРИСТИКИ ДВИЖЕНИЯ

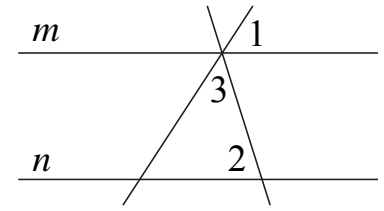
- 1) автомобиль не разогнался и некоторое время ехал с постоянной скоростью
- 2) скорость автомобиля постоянно снижалась
- 3) автомобиль сделал остановку
- 4) скорость автомобиля достигла максимума за всё время движения

В таблице под каждой буквой укажите соответствующий номер.

Ответ:

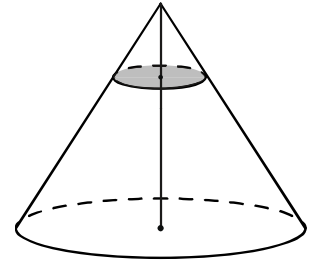
А	Б	В	Г

15 Прямые m и n параллельны (см. рисунок). Найдите $\angle 3$, если $\angle 1 = 32^\circ$, $\angle 2 = 77^\circ$. Ответ дайте в градусах.



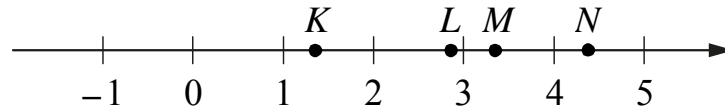
Ответ: _____.

16 Объём конуса равен 135. Через точку, делящую высоту конуса в отношении 1:2, считая от вершины, проведена плоскость, параллельная основанию. Найдите объём конуса, отсекаемого от данного конуса проведённой плоскостью.



Ответ: _____.

17 На прямой отмечены точки K , L , M и N .



Установите соответствие между указанными точками и числами из правого столбца, которые им соответствуют.

ТОЧКИ	ЧИСЛА
А) K	1) $\log_2 20$
Б) L	2) $\frac{4}{3}$
В) M	3) $\sqrt{11}$
Г) N	4) $0,35^{-1}$

Впишите в приведённую в ответе таблицу под каждой буквой соответствующую цифру.

Ответ:

А	Б	В	Г

18 В классе учится 20 человек, из них 13 человек посещают кружок по истории, а 10 человек — кружок по математике. Выберите утверждения, которые следуют из приведённых данных.

В этом классе

- 1) нет ученика, который не посещает ни кружок по истории, ни кружок по математике
- 2) найдутся хотя бы два человека, которые посещают оба кружка
- 3) если ученик не ходит на кружок по истории, то он обязательно ходит на кружок по математике
- 4) не найдётся 11 человек, которые посещают оба кружка

В ответе запишите номера выбранных утверждений без пробелов, запятых и других дополнительных символов.

Ответ: _____.

19 Приведите пример четырёхзначного числа, кратного 15, произведение цифр которого больше 35, но меньше 45. В ответе укажите ровно одно такое число.

Ответ: _____.

20 Саша пригласил Петю в гости, сказав, что живёт в седьмом подъезде в квартире №462, а этаж сказать забыл. Подойдя к дому, Петя обнаружил, что дом семиэтажный. На каком этаже живёт Саша? (На каждом этаже число квартир одинаково, номера квартир в доме начинаются с единицы.)

Ответ: _____.

Не забудьте перенести ответы к заданиям в бланк ответов №1.

Анкета участника апробации

Здравствуйте!

Благодарим Вас за участие в апробации новой формы экзамена – ЕГЭ по математике базового уровня. Просим ответить на вопросы анкеты. Ваши ответы очень важны для нас!

Чтобы ответить на вопрос, обведите в кружок букву выбранного варианта ответа.

Например, (б)

Во всех вопросах (кроме вопросов № 7 и № 9) нужно выбрать *только один* вариант ответа.

1. Какая у Вас отметка по алгебре, геометрии или математике за прошлый год? (Если отметки разные, укажите ту, которая выше).

- а) «5»
- б) «4»
- в) «3»
- г) Другое

2. Что Вы собираетесь делать после окончания школы?

- а) Продолжить обучение в вузе, при поступлении в который учитывается результат ЕГЭ по математике
- б) Продолжить обучение в вузе, при поступлении в который не учитывается результат ЕГЭ по математике
- в) Продолжить обучение в техникуме или колледже
- г) Устроиться на работу
- д) Другое

3. Сколько времени в среднем в неделю Вы тратите на домашние задания по математике (алгебре и геометрии вместе)?

- а) Меньше 1 часа
- б) От 1 до 3 часов
- в) Больше 3 часов

4. Сколько у Вас уроков математики (алгебры и геометрии вместе) в неделю в школе?

- а) Менее 4
- б) 4
- в) 5
- г) 6
- д) Более 6

5. Посещаете ли Вы дополнительные занятия по математике помимо уроков в школе?

- а) Посещаю
- б) Не посещаю
- в) Не посещаю, но собираюсь

6. Нравится ли Вам заниматься математикой?

- а) Да
- б) Да, время от времени
- в) Не очень
- г) Нет
- д) Не знаю

7. Выполненная работа показалась Вам (можно выбрать несколько ответов)

- а) легкой
- б) сложной
- в) интересной
- г) скучной
- д) необычной
- е) привычной

8. Разбираетесь ли Вы в компьютерах?

- а) Да, хорошо
- б) Да, средне
- в) Нет, не разбираюсь

9. Пользуетесь ли Вы компьютером? (можно выбрать несколько ответов)

- а) Да, для игр и развлечений
- б) Да, для общения с друзьями
- в) Да, для поиска информации
- г) Да, для работы с фото, видео и т.п.
- д) Да, занимаюсь программированием
- е) Нет, почти не пользуюсь

**Апробация контрольных измерительных материалов
для проведения в 2015 году единого государственного экзамена
по МАТЕМАТИКЕ**

Базовый уровень

Вариант №166082

Инструкция по выполнению работы

Работа включает в себя 20 заданий.

На выполнение работы отводится 3 часа (180 минут).

Ответы к заданиям записываются в виде числа или последовательности цифр. Запишите ответы к заданиям в поле ответа в тексте работы, а затем перенесите в бланк ответов № 1 справа от номера соответствующего задания. Если ответом является последовательность цифр, то запишите эту последовательность в бланк ответов № 1 без пробелов, запятых и других дополнительных символов.

Пример записи ответов.

	В работе	На бланке																																								
Ответ: <u>-0,6</u> .	<table border="1" style="border-collapse: collapse; width: 100%;"><tr><td style="width: 10%; text-align: center;">5</td><td style="width: 10%; text-align: center;">-</td><td style="width: 10%; text-align: center;">0</td><td style="width: 10%; text-align: center;">,</td><td style="width: 10%; text-align: center;">6</td><td style="width: 10%;"></td><td style="width: 10%;"></td><td style="width: 10%;"></td><td style="width: 10%;"></td><td style="width: 10%;"></td><td style="width: 10%;"></td><td style="width: 10%;"></td><td style="width: 10%;"></td><td style="width: 10%;"></td><td style="width: 10%;"></td><td style="width: 10%;"></td><td style="width: 10%;"></td><td style="width: 10%;"></td><td style="width: 10%;"></td><td style="width: 10%;"></td></tr></table>	5	-	0	,	6																<table border="1" style="border-collapse: collapse; width: 100%;"><tr><td style="width: 10%; text-align: center;">9</td><td style="width: 10%; text-align: center;">4</td><td style="width: 10%; text-align: center;">3</td><td style="width: 10%; text-align: center;">1</td><td style="width: 10%; text-align: center;">2</td><td style="width: 10%;"></td><td style="width: 10%;"></td><td style="width: 10%;"></td><td style="width: 10%;"></td><td style="width: 10%;"></td><td style="width: 10%;"></td><td style="width: 10%;"></td><td style="width: 10%;"></td><td style="width: 10%;"></td><td style="width: 10%;"></td><td style="width: 10%;"></td><td style="width: 10%;"></td><td style="width: 10%;"></td><td style="width: 10%;"></td><td style="width: 10%;"></td></tr></table>	9	4	3	1	2															
5	-	0	,	6																																						
9	4	3	1	2																																						
Ответ:	<table border="1" style="border-collapse: collapse; width: 100%;"><tr><td style="width: 10%; text-align: center;">А</td><td style="width: 10%; text-align: center;">Б</td><td style="width: 10%; text-align: center;">В</td><td style="width: 10%; text-align: center;">Г</td></tr><tr><td style="width: 10%; text-align: center;">4</td><td style="width: 10%; text-align: center;">3</td><td style="width: 10%; text-align: center;">1</td><td style="width: 10%; text-align: center;">2</td></tr></table>	А	Б	В	Г	4	3	1	2																																	
А	Б	В	Г																																							
4	3	1	2																																							

Все бланки ЕГЭ заполняются яркими чёрными чернилами. Допускается использование гелевой, капиллярной или перьевой ручек.

При выполнении заданий можно пользоваться черновиком. Записи в черновике не учитываются при оценивании работы.

Баллы, полученные Вами за выполненные задания, суммируются. Постарайтесь выполнить как можно больше заданий и набрать наибольшее количество баллов.

Обязательно проверьте в конце работы, что все ответы к заданиям части 1 перенесены в бланк ответов!

Желаем успеха!

Ответом к каждому заданию является конечная десятичная дробь, целое число или последовательность цифр. Запишите ответы к заданиям в поле ответа в тексте работы, а затем перенесите в бланк ответов № 1 справа от номера соответствующего задания. Если ответом является последовательность цифр, то запишите эту последовательность в бланк ответов № 1 без пробелов, запятых и других дополнительных символов. Каждую цифру, знак «минус» и запятую пишите в отдельной клеточке в соответствии с приведёнными в бланке образцами. Единицы измерений писать не нужно.

1 Найдите значение выражения $\left(\frac{13}{30} - \frac{11}{20}\right) \cdot 1\frac{4}{5}$.

Ответ: _____.

2 Найдите значение выражения $6 \cdot 10^{-1} + 3 \cdot 10^2 + 5 \cdot 10^1$.

Ответ: _____.

3 Налог на доходы составляет 13% от заработной платы. Заработная плата Ивана Кузьмича равна 12 500 рублей. Какую сумму он получит после уплаты налога на доходы? Ответ дайте в рублях.

Ответ: _____.

4 Мощность постоянного тока (в ваттах) вычисляется по формуле $P = I^2 R$, где I — сила тока (в амперах), R — сопротивление (в омах). Пользуясь этой формулой, найдите сопротивление R (в омах), если мощность составляет 147 Вт, а сила тока равна 3,5 А.

Ответ: _____.

5 Найдите $\sin x$, если $\cos x = -\frac{2\sqrt{6}}{5}$ и $90^\circ < x < 180^\circ$.

Ответ: _____.

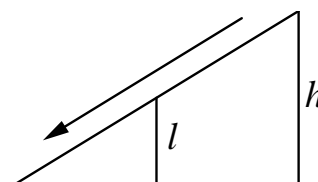
6 В университетскую библиотеку привезли новые учебники по обществознанию для двух курсов, по 130 штук для каждого курса. Все книги одинаковы по размеру. В книжном шкафу 8 полок, на каждой полке помещается 30 учебников. Сколько шкафов можно полностью заполнить новыми учебниками?

Ответ: _____.

7 Найдите корень уравнения $1 + 8(3x + 7) = 9$.

Ответ: _____.

8 Детская горка укреплена вертикальным столбом, расположенным посередине спуска. Найдите высоту l этого столба, если высота h горки равна 2 метрам. Ответ дайте в метрах.



Ответ: _____.

9 Установите соответствие между величинами и их возможными значениями: к каждому элементу первого столбца подберите соответствующий элемент из второго столбца.

ВЕЛИЧИНЫ

- А) объём воды в Азовском море
- Б) объём ящика с инструментами
- В) объём грузового отсека транспортного самолёта
- Г) объём бутылки растительного масла

ВОЗМОЖНЫЕ ЗНАЧЕНИЯ

- 1) 150 м^3
- 2) 1 л
- 3) 76 л
- 4) 256 км^3

В таблице под каждой буквой, соответствующей величине, укажите номер её возможного значения.

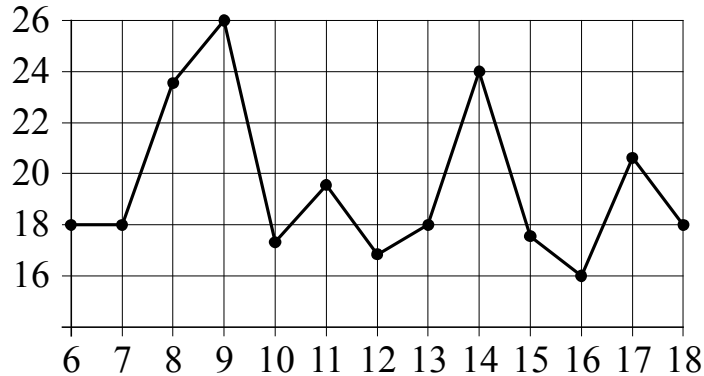
Ответ:

А	Б	В	Г

10 Игральную кость с 6 гранями бросают дважды. Найдите вероятность того, что оба раза выпало число, большее 3.

Ответ: _____.

- 11** На рисунке жирными точками показана среднесуточная температура воздуха в Бресте каждый день с 6 по 18 июля 1981 года. По горизонтали указываются числа месяца, по вертикали — температура в градусах Цельсия. Для наглядности жирные точки соединены линиями. Определите по рисунку, какой была наименьшая среднесуточная температура в период с 6 по 16 июля. Ответ дайте в градусах Цельсия.

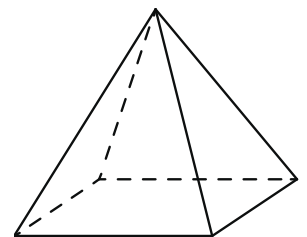


Ответ: _____.

- 12** Для того чтобы связать свитер, хозяйке нужно 600 граммов шерстяной пряжи синего цвета. Можно купить синюю пряжу по цене 60 рублей за 100 граммов, а можно купить неокрашенную пряжу по цене 50 рублей за 100 граммов и окрасить её. Один пакетик краски стоит 40 рублей и рассчитан на окраску 300 граммов пряжи. Какой вариант покупки дешевле? В ответе напишите, сколько рублей будет стоить эта покупка.

Ответ: _____.

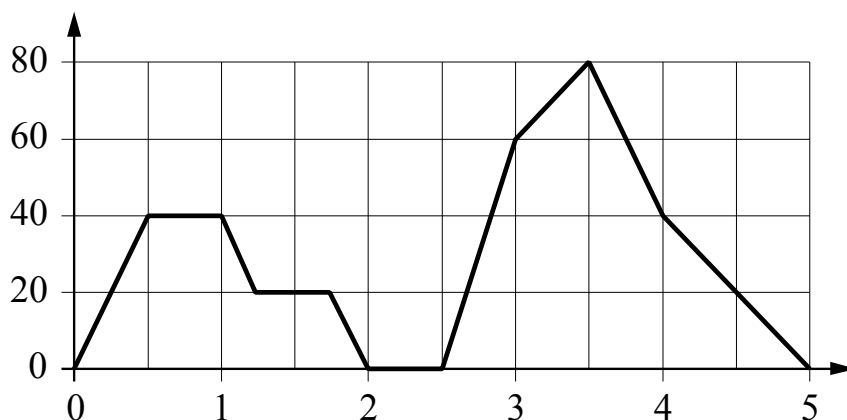
- 13** Пирамида Снофру имеет форму правильной четырёхугольной пирамиды, сторона основания которой равна 220 м, а высота — 104 м. Сторона основания точной музейной копии этой пирамиды равна 44 см. Найдите высоту музейной копии. Ответ дайте в сантиметрах.



Ответ: _____.

14

На графике изображена зависимость скорости движения легкового автомобиля на пути между двумя городами от времени. На вертикальной оси отмечена скорость автомобиля в км/ч, на горизонтальной — время в часах, прошедшее с начала движения легкового автомобиля.



Пользуясь графиком, поставьте в соответствие каждому интервалу времени характеристику движения автомобиля на этом интервале.

ИНТЕРВАЛЫ ВРЕМЕНИ

- А) первый час пути
 Б) второй час пути
 В) третий час пути
 Г) четвертый час пути

ХАРАКТЕРИСТИКИ ДВИЖЕНИЯ

- 1) скорость автомобиля достигла максимума за всё время движения автомобиля
 2) автомобиль разгонялся, но его скорость не превышала 40 км/ч
 3) автомобиль сделал остановку
 4) автомобиль не разгонялся

В таблице под каждой буквой укажите соответствующий номер.

Ответ:

А	Б	В	Г

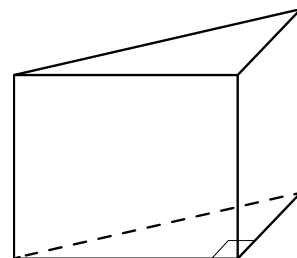
15

В параллелограмме $ABCD$ $AB = 8$, $AC = BD = 17$. Найдите площадь параллелограмма.

Ответ: _____.

16

В основании прямой призмы лежит прямоугольный треугольник, один из катетов которого равен 3, а гипотенуза равна $\sqrt{58}$. Найдите объём призмы, если её высота равна 2.



Ответ: _____.

17

Каждому из четырёх неравенств в левом столбце соответствует одно из решений из правого столбца. Установите соответствие между неравенствами и их решениями.

НЕРАВЕНСТВА

РЕШЕНИЯ

А) $\log_4 x > 0$

1) $x < 1$ и $x > 5$

Б) $4^{-x+7} > 16$

2) $x > 1$

В) $\frac{x-1}{x-5} < 0$

3) $x < 5$

4) $1 < x < 5$

Г) $\frac{1}{(x-5)(x-1)} > 0$

Впишите в приведённую в ответе таблицу под каждой буквой соответствующую цифру.

Ответ:

А	Б	В	Г

18

Виктор старше Дениса, но младше Егора. Андрей не старше Виктора. Выберите утверждения, которые следуют из приведённых данных.

- 1) Егор самый старший из указанных четырёх человек.
- 2) Андрей и Виктор не могут быть одного возраста.
- 3) Андрей и Денис одного возраста.
- 4) Денис младше Егора.

В ответе запишите номера выбранных утверждений без пробелов, запятых и других дополнительных символов.

Ответ: _____.

- 19** Приведите пример четырёхзначного числа, кратного 12, произведение цифр которого равно 10. В ответе укажите ровно одно такое число.

Ответ: _____.

- 20** В обменном пункте можно совершить одну из двух операций:
1) за 3 золотых монеты получить 4 серебряных и одну медную;
2) за 6 серебряных монет получить 4 золотых и одну медную.
У Николы были только серебряные монеты. После посещения обменного пункта серебряных монет у него стало меньше, золотых не появилось, зато появилось 35 медных. На сколько уменьшилось количество серебряных монет у Николы?

Ответ: _____.

Не забудьте перенести ответы к заданиям в бланк ответов №1.

Анкета участника апробации

Здравствуйте!

Благодарим Вас за участие в апробации новой формы экзамена – ЕГЭ по математике базового уровня. Просим ответить на вопросы анкеты. Ваши ответы очень важны для нас!

Чтобы ответить на вопрос, обведите в кружок букву выбранного варианта ответа.

Например, **б)**

Во всех вопросах (кроме вопросов № 7 и № 9) нужно выбрать *только один* вариант ответа.

1. Какая у Вас отметка по алгебре, геометрии или математике за прошлый год? (Если отметки разные, укажите ту, которая выше).

- а) «5»
- б) «4»
- в) «3»
- г) Другое

2. Что Вы собираетесь делать после окончания школы?

- а) Продолжить обучение в вузе, при поступлении в который учитывается результат ЕГЭ по математике
- б) Продолжить обучение в вузе, при поступлении в который не учитывается результат ЕГЭ по математике
- в) Продолжить обучение в техникуме или колледже
- г) Устроиться на работу
- д) Другое

3. Сколько времени в среднем в неделю Вы тратите на домашние задания по математике (алгебре и геометрии вместе)?

- а) Меньше 1 часа
- б) От 1 до 3 часов
- в) Больше 3 часов

4. Сколько у Вас уроков математики (алгебры и геометрии вместе) в неделю в школе?

- а) Менее 4
- б) 4
- в) 5
- г) 6
- д) Более 6

5. Посещаете ли Вы дополнительные занятия по математике помимо уроков в школе?

- а) Посещаю
- б) Не посещаю
- в) Не посещаю, но собираюсь

6. Нравится ли Вам заниматься математикой?

- а) Да
- б) Да, время от времени
- в) Не очень
- г) Нет
- д) Не знаю

7. Выполненная работа показалась Вам
(можно выбрать несколько ответов)

- а) легкой
- б) сложной
- в) интересной
- г) скучной
- д) необычной
- е) привычной

8. Разбираетесь ли Вы в компьютерах?

- а) Да, хорошо
- б) Да, средне
- в) Нет, не разбираюсь

9. Пользуетесь ли Вы компьютером?
(можно выбрать несколько ответов)

- а) Да, для игр и развлечений
- б) Да, для общения с друзьями
- в) Да, для поиска информации
- г) Да, для работы с фото, видео и т.п.
- д) Да, занимаюсь программированием
- е) Нет, почти не пользуюсь

**Апробация контрольных измерительных материалов
для проведения в 2015 году единого государственного экзамена
по МАТЕМАТИКЕ**

Базовый уровень

Вариант №166083

Инструкция по выполнению работы

Работа включает в себя 20 заданий.

На выполнение работы отводится 3 часа (180 минут).

Ответы к заданиям записываются в виде числа или последовательности цифр. Запишите ответы к заданиям в поле ответа в тексте работы, а затем перенесите в бланк ответов № 1 справа от номера соответствующего задания. Если ответом является последовательность цифр, то запишите эту последовательность в бланк ответов № 1 без пробелов, запятых и других дополнительных символов.

Пример записи ответов.

В работе	На бланке																				
Ответ: <u>-0,6</u> .	<table border="1" style="display: inline-table; border-collapse: collapse;"><tr><td style="width: 20px; height: 20px; text-align: center;">5</td><td style="width: 20px; height: 20px; text-align: center;">-</td><td style="width: 20px; height: 20px; text-align: center;">0</td><td style="width: 20px; height: 20px; text-align: center;">,</td><td style="width: 20px; height: 20px; text-align: center;">6</td><td style="width: 20px; height: 20px;"></td><td style="width: 20px; height: 20px;"></td><td style="width: 20px; height: 20px;"></td><td style="width: 20px; height: 20px;"></td><td style="width: 20px; height: 20px;"></td><td style="width: 20px; height: 20px;"></td><td style="width: 20px; height: 20px;"></td><td style="width: 20px; height: 20px;"></td><td style="width: 20px; height: 20px;"></td><td style="width: 20px; height: 20px;"></td><td style="width: 20px; height: 20px;"></td><td style="width: 20px; height: 20px;"></td><td style="width: 20px; height: 20px;"></td><td style="width: 20px; height: 20px;"></td><td style="width: 20px; height: 20px;"></td></tr></table>	5	-	0	,	6															
5	-	0	,	6																	
Ответ:	<table border="1" style="display: inline-table; border-collapse: collapse;"><tr><td style="width: 20px; height: 20px; text-align: center;">А</td><td style="width: 20px; height: 20px; text-align: center;">Б</td><td style="width: 20px; height: 20px; text-align: center;">В</td><td style="width: 20px; height: 20px; text-align: center;">Г</td></tr><tr><td style="width: 20px; height: 20px; text-align: center;">4</td><td style="width: 20px; height: 20px; text-align: center;">3</td><td style="width: 20px; height: 20px; text-align: center;">1</td><td style="width: 20px; height: 20px; text-align: center;">2</td></tr></table>	А	Б	В	Г	4	3	1	2												
А	Б	В	Г																		
4	3	1	2																		
	<table border="1" style="display: inline-table; border-collapse: collapse;"><tr><td style="width: 20px; height: 20px; text-align: center;">9</td><td style="width: 20px; height: 20px; text-align: center;">4</td><td style="width: 20px; height: 20px; text-align: center;">3</td><td style="width: 20px; height: 20px; text-align: center;">1</td><td style="width: 20px; height: 20px; text-align: center;">2</td><td style="width: 20px; height: 20px;"></td><td style="width: 20px; height: 20px;"></td><td style="width: 20px; height: 20px;"></td><td style="width: 20px; height: 20px;"></td><td style="width: 20px; height: 20px;"></td><td style="width: 20px; height: 20px;"></td><td style="width: 20px; height: 20px;"></td><td style="width: 20px; height: 20px;"></td><td style="width: 20px; height: 20px;"></td><td style="width: 20px; height: 20px;"></td><td style="width: 20px; height: 20px;"></td><td style="width: 20px; height: 20px;"></td><td style="width: 20px; height: 20px;"></td><td style="width: 20px; height: 20px;"></td><td style="width: 20px; height: 20px;"></td></tr></table>	9	4	3	1	2															
9	4	3	1	2																	

Все бланки ЕГЭ заполняются яркими чёрными чернилами. Допускается использование гелевой, капиллярной или перьевой ручек.

При выполнении заданий можно пользоваться черновиком. Записи в черновике не учитываются при оценивании работы.

Баллы, полученные Вами за выполненные задания, суммируются. Постарайтесь выполнить как можно больше заданий и набрать наибольшее количество баллов.

Обязательно проверьте в конце работы, что все ответы к заданиям части 1 перенесены в бланк ответов!

Желаем успеха!

Ответом к каждому заданию является конечная десятичная дробь, целое число или последовательность цифр. Запишите ответы к заданиям в поле ответа в тексте работы, а затем перенесите в бланк ответов № 1 справа от номера соответствующего задания. Если ответом является последовательность цифр, то запишите эту последовательность в бланк ответов № 1 без пробелов, запятых и других дополнительных символов. Каждую цифру, знак «минус» и запятую пишите в отдельной клеточке в соответствии с приведёнными в бланке образцами. Единицы измерений писать не нужно.

1 Найдите значение выражения $\left(\frac{17}{8} - \frac{11}{20}\right) : \frac{5}{46}$.

Ответ: _____.

2 Найдите сумму чисел $9,4 \cdot 10^2$ и $2,1 \cdot 10^3$.

Ответ: _____.

3 Товар на распродаже уценили на 45%, при этом он стал стоить 770 р. Сколько рублей стоил товар до распродажи?

Ответ: _____.

4 В фирме «Эх, прокачу!» стоимость поездки на такси (в рублях) рассчитывается по формуле $C = 150 + 11 \cdot (t - 5)$, где t — длительность поездки, выраженная в минутах ($t > 5$). Пользуясь этой формулой, рассчитайте стоимость 15-минутной поездки. Ответ укажите в рублях.

Ответ: _____.

5 Найдите значение выражения $\frac{7}{3} \sqrt{6} \cdot \sqrt{54}$.

Ответ: _____.

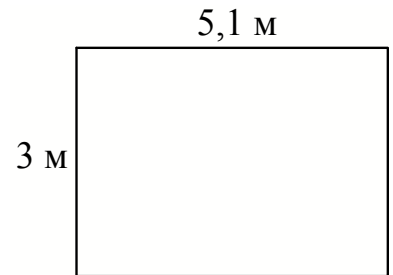
- 6 На день рождения полагается дарить букет из нечётного числа цветов. Тюльпаны стоят 45 рублей за штуку. У Вани есть 300 рублей. Из какого наибольшего числа тюльпанов он может купить букет Маше на день рождения?

Ответ: _____.

- 7 Найдите корень уравнения $x^2 = 7x + 8$. Если уравнение имеет более одного корня, в ответе укажите меньший из них.

Ответ: _____.

- 8 На плане указано, что прямоугольная комната имеет площадь 15,2 кв.м. Точные измерения показали, что ширина комнаты равна 3 м, а длина 5,1 м. На сколько квадратных метров площадь комнаты отличается от значения, указанного в плане?



Ответ: _____.

- 9 Установите соответствие между величинами и их возможными значениями: к каждому элементу первого столбца подберите соответствующий элемент из второго столбца.

ВЕЛИЧИНЫ

- А) площадь почтовой марки
 Б) площадь письменного стола
 В) площадь города Санкт-Петербург
 Г) площадь волейбольной площадки

ВОЗМОЖНЫЕ ЗНАЧЕНИЯ

- 1) 362 кв. м
 2) 1,2 кв. м
 3) 1399 кв. км
 4) 5,2 кв. см

В таблице под каждой буквой, соответствующей величине, укажите номер её возможного значения.

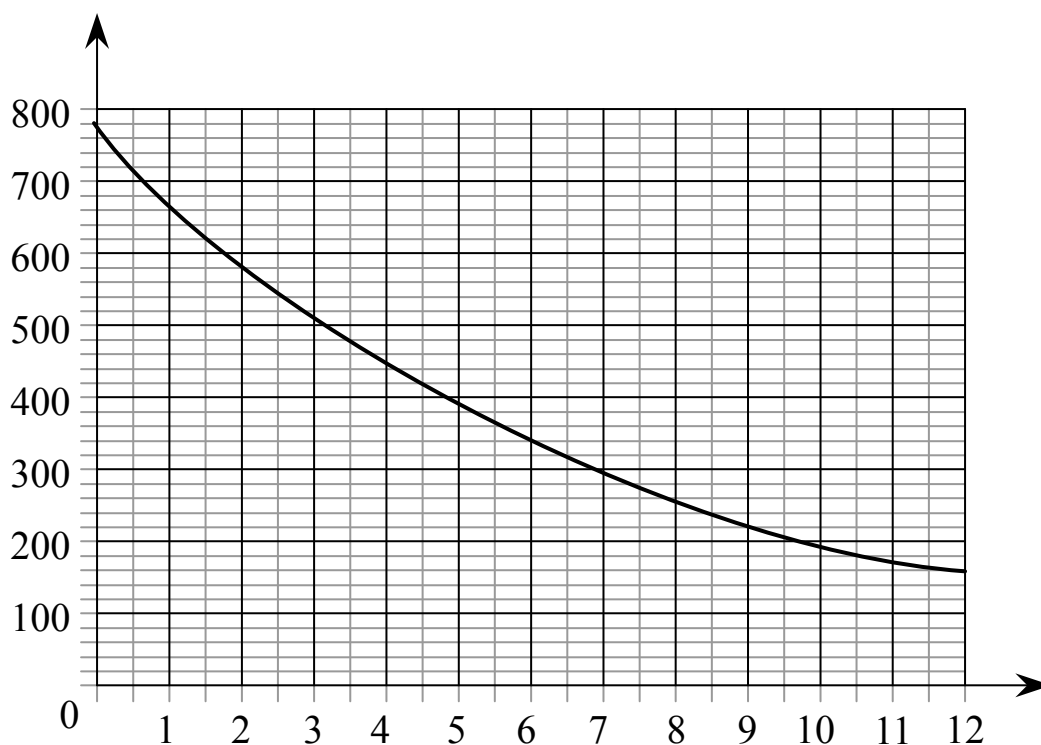
Ответ:

А	Б	В	Г

- 10** В сборнике билетов по физике всего 40 билетов, в 6 из них встречается вопрос по теме «Термодинамика». Найдите вероятность того, что в случайно выбранном на экзамене билете школьнику достанется вопрос по теме «Термодинамика».

Ответ: _____.

- 11** На графике изображена зависимость атмосферного давления (в миллиметрах ртутного столба) от высоты над уровнем моря (в километрах). На какой высоте (в км) летит воздушный шар, если барометр, находящийся в корзине шара, показывает давление 580 миллиметров ртутного столба?



Ответ: _____.

- 12** В городском парке имеется пять аттракционов: карусель, колесо обозрения, автодром, «Ромашка» и «Весёлый тир». В кассах продаётся шесть видов билетов, каждый из которых позволяет посетить один или два аттракциона. Сведения о стоимости билетов представлены в таблице.

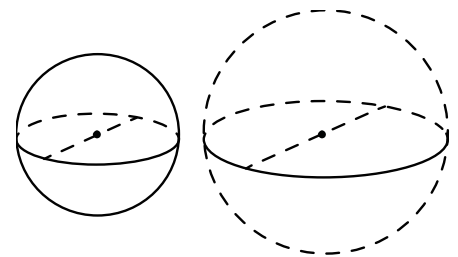
Вид билета	Набор аттракционов	Стоимость (руб.)
1	«Ромашка»	200
2	колесо обозрения, карусель	450
3	Автодром, колесо обозрения	200
4	«Ромашка», автодром	450
5	«Весёлый тир», карусель	500
6	«Весёлый тир», «Ромашка»	400

Андрей хочет посетить все пять аттракционов, но имеет в наличии только 900 рублей. Какие виды билетов он должен купить?

В ответе укажите номера, соответствующие видам билетов, без пробелов, запятых и других дополнительных символов.

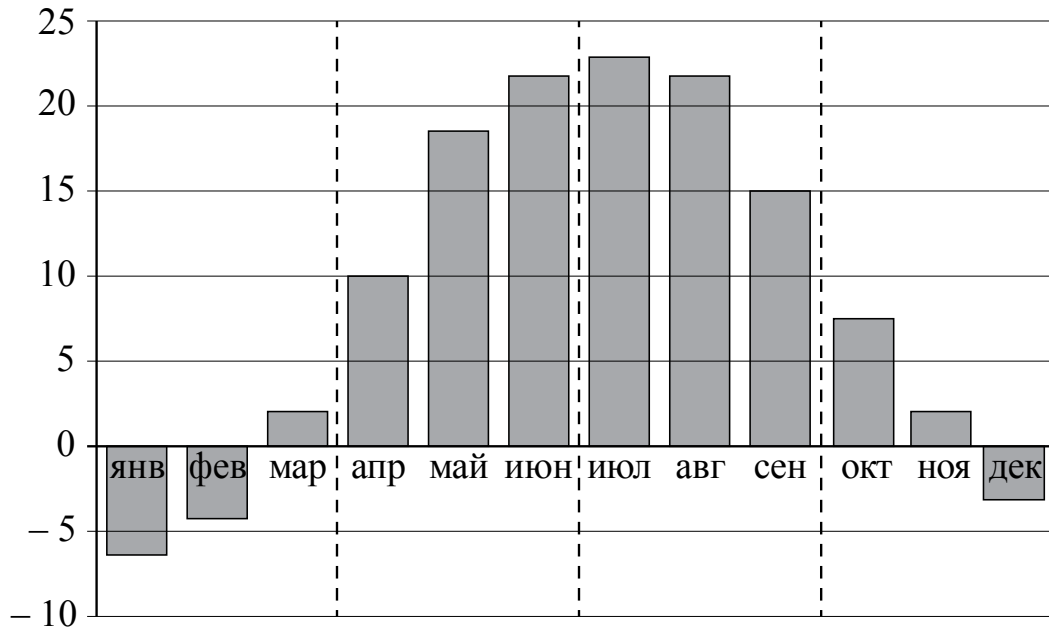
Ответ: _____.

- 13** Однородный шар диаметром 3 см имеет массу 81 грамм. Чему равна масса шара, изготовленного из того же материала, с диаметром 5 см? Ответ дайте в граммах.



Ответ: _____.

14 На диаграмме изображены дневные среднемесячные температуры воздуха в Москве по данным многолетних наблюдений. По горизонтали указываются месяцы, по вертикали — температура в градусах Цельсия.



Пользуясь диаграммой, поставьте в соответствие каждому из указанных периодов времени характеристику температуры.

ПЕРИОДЫ ВРЕМЕНИ

- А) 1-й квартал года
- Б) 2-й квартал года
- В) 3-й квартал года
- Г) 4-й квартал года

ХАРАКТЕРИСТИКИ ТЕМПЕРАТУРЫ

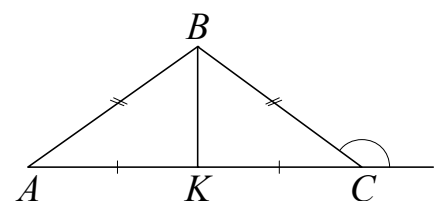
- 1) средняя температура за каждый месяц квартала не ниже 13°C
- 2) средняя температура за последний месяц квартала более чем на 10 градусов превышает среднюю температуру за первый месяц квартала
- 3) средняя температура за последний месяц квартала отрицательная
- 4) ровно два месяца квартала средняя температура отрицательная

В таблице под каждой буквой укажите соответствующий номер.

Ответ:

А	Б	В	Г

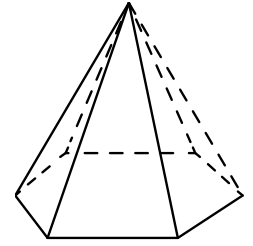
15 В треугольнике ABC $AB = BC = 24$, внешний угол при вершине C равен 150° . Найдите длину медианы BK .



Ответ: _____.

16

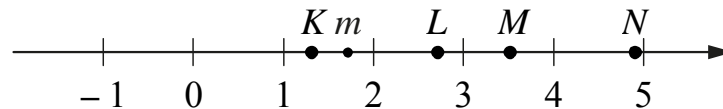
Стороны основания правильной шестиугольной пирамиды равны 14, боковые рёбра равны 25. Найдите площадь боковой поверхности этой пирамиды.



Ответ: _____.

17

На прямой отмечено число m и точки K , L , M и N .



Установите соответствие между указанными точками и числами из правого столбца, которые им соответствуют.

ТОЧКИ

ЧИСЛА

- А) K
 Б) L
 В) M
 Г) N

- 1) \sqrt{m}
 2) m^3
 3) $m+1$
 4) $\frac{6}{m}$

Впишите в приведённую в ответе таблицу под каждой буквой соответствующую цифру.

Ответ:

А	Б	В	Г

18 В классе учится 30 человек, из них 20 человек посещают кружок по истории, а 16 человек — кружок по математике. Выберите утверждения, которые следуют из приведённых данных.

В этом классе

- 1) найдутся хотя бы два человека, которые посещают оба кружка
- 2) если ученик не ходит на кружок по истории, то он обязательно ходит на кружок по математике
- 3) нет ученика, который не посещает ни кружок по истории, ни кружок по математике
- 4) не найдётся 17 человек, которые посещают оба кружка

В ответе запишите номера выбранных утверждений без пробелов, запятых и других дополнительных символов.

Ответ: _____.

19 Приведите пример трёхзначного натурального числа, большего 500, которое при делении на 8 и на 5 даёт равные ненулевые остатки и первая слева цифра которого является средним арифметическим двух других цифр. В ответе укажите ровно одно такое число.

Ответ: _____.

20 На палке отмечены поперечные линии красного, жёлтого и зелёного цвета. Если распилить палку по красным линиям, получится 5 кусков, если по жёлтым — 7 кусков, а если по зелёным — 11 кусков. Сколько кусков получится, если распилить палку по линиям всех трёх цветов?

Ответ: _____.

Не забудьте перенести ответы к заданиям в бланк ответов №1.

Анкета участника апробации

Здравствуйте!

Благодарим Вас за участие в апробации новой формы экзамена – ЕГЭ по математике базового уровня. Просим ответить на вопросы анкеты. Ваши ответы очень важны для нас!

Чтобы ответить на вопрос, обведите в кружок букву выбранного варианта ответа.

Например, **б**

Во всех вопросах (кроме вопросов № 7 и № 9) нужно выбрать *только один* вариант ответа.

1. Какая у Вас отметка по алгебре, геометрии или математике за прошлый год? (Если отметки разные, укажите ту, которая выше).

- а) «5»
- б) «4»
- в) «3»
- г) Другое

2. Что Вы собираетесь делать после окончания школы?

- а) Продолжить обучение в вузе, при поступлении в который учитывается результат ЕГЭ по математике
- б) Продолжить обучение в вузе, при поступлении в который не учитывается результат ЕГЭ по математике
- в) Продолжить обучение в техникуме или колледже
- г) Устроиться на работу
- д) Другое

3. Сколько времени в среднем в неделю Вы тратите на домашние задания по математике (алгебре и геометрии вместе)?

- а) Меньше 1 часа
- б) От 1 до 3 часов
- в) Больше 3 часов

4. Сколько у Вас уроков математики (алгебры и геометрии вместе) в неделю в школе?

- а) Менее 4
- б) 4
- в) 5
- г) 6
- д) Более 6

5. Посещаете ли Вы дополнительные занятия по математике помимо уроков в школе?

- а) Посещаю
- б) Не посещаю
- в) Не посещаю, но собираюсь

6. Нравится ли Вам заниматься математикой?

- а) Да
- б) Да, время от времени
- в) Не очень
- г) Нет
- д) Не знаю

7. Выполненная работа показалась Вам (можно выбрать несколько ответов)

- а) легкой
- б) сложной
- в) интересной
- г) скучной
- д) необычной
- е) привычной

8. Разбираетесь ли Вы в компьютерах?

- а) Да, хорошо
- б) Да, средне
- в) Нет, не разбираюсь

9. Пользуетесь ли Вы компьютером? (можно выбрать несколько ответов)

- а) Да, для игр и развлечений
- б) Да, для общения с друзьями
- в) Да, для поиска информации
- г) Да, для работы с фото, видео и т.п.
- д) Да, занимаюсь программированием
- е) Нет, почти не пользуюсь

**Апробация контрольных измерительных материалов
для проведения в 2015 году единого государственного экзамена
по МАТЕМАТИКЕ**

Базовый уровень

Вариант №166084

Инструкция по выполнению работы

Работа включает в себя 20 заданий.

На выполнение работы отводится 3 часа (180 минут).

Ответы к заданиям записываются в виде числа или последовательности цифр. Запишите ответы к заданиям в поле ответа в тексте работы, а затем перенесите в бланк ответов № 1 справа от номера соответствующего задания. Если ответом является последовательность цифр, то запишите эту последовательность в бланк ответов № 1 без пробелов, запятых и других дополнительных символов.

Пример записи ответов.

В работе	На бланке																												
Ответ: <u>-0,6</u> .	<table border="1" style="display: inline-table; border-collapse: collapse;"><tr><td style="width: 20px; height: 20px; text-align: center;">5</td><td style="width: 20px; height: 20px; text-align: center;">-</td><td style="width: 20px; height: 20px; text-align: center;">0</td><td style="width: 20px; height: 20px; text-align: center;">,</td><td style="width: 20px; height: 20px; text-align: center;">6</td><td style="width: 20px; height: 20px;"></td><td style="width: 20px; height: 20px;"></td><td style="width: 20px; height: 20px;"></td><td style="width: 20px; height: 20px;"></td><td style="width: 20px; height: 20px;"></td><td style="width: 20px; height: 20px;"></td><td style="width: 20px; height: 20px;"></td><td style="width: 20px; height: 20px;"></td><td style="width: 20px; height: 20px;"></td><td style="width: 20px; height: 20px;"></td><td style="width: 20px; height: 20px;"></td><td style="width: 20px; height: 20px;"></td><td style="width: 20px; height: 20px;"></td><td style="width: 20px; height: 20px;"></td><td style="width: 20px; height: 20px;"></td></tr></table>	5	-	0	,	6																							
5	-	0	,	6																									
Ответ: <table border="1" style="display: inline-table; border-collapse: collapse;"><tr><td style="width: 20px; height: 20px; text-align: center;">А</td><td style="width: 20px; height: 20px; text-align: center;">Б</td><td style="width: 20px; height: 20px; text-align: center;">В</td><td style="width: 20px; height: 20px; text-align: center;">Г</td></tr><tr><td style="width: 20px; height: 20px; text-align: center;">4</td><td style="width: 20px; height: 20px; text-align: center;">3</td><td style="width: 20px; height: 20px; text-align: center;">1</td><td style="width: 20px; height: 20px; text-align: center;">2</td></tr></table>	А	Б	В	Г	4	3	1	2	<table border="1" style="display: inline-table; border-collapse: collapse;"><tr><td style="width: 20px; height: 20px; text-align: center;">9</td><td style="width: 20px; height: 20px; text-align: center;">4</td><td style="width: 20px; height: 20px; text-align: center;">3</td><td style="width: 20px; height: 20px; text-align: center;">1</td><td style="width: 20px; height: 20px; text-align: center;">2</td><td style="width: 20px; height: 20px;"></td><td style="width: 20px; height: 20px;"></td><td style="width: 20px; height: 20px;"></td><td style="width: 20px; height: 20px;"></td><td style="width: 20px; height: 20px;"></td><td style="width: 20px; height: 20px;"></td><td style="width: 20px; height: 20px;"></td><td style="width: 20px; height: 20px;"></td><td style="width: 20px; height: 20px;"></td><td style="width: 20px; height: 20px;"></td><td style="width: 20px; height: 20px;"></td><td style="width: 20px; height: 20px;"></td><td style="width: 20px; height: 20px;"></td><td style="width: 20px; height: 20px;"></td><td style="width: 20px; height: 20px;"></td></tr></table>	9	4	3	1	2															
А	Б	В	Г																										
4	3	1	2																										
9	4	3	1	2																									

Все бланки ЕГЭ заполняются яркими чёрными чернилами. Допускается использование гелевой, капиллярной или перьевой ручек.

При выполнении заданий можно пользоваться черновиком. Записи в черновике не учитываются при оценивании работы.

Баллы, полученные Вами за выполненные задания, суммируются. Постарайтесь выполнить как можно больше заданий и набрать наибольшее количество баллов.

Обязательно проверьте в конце работы, что все ответы к заданиям части 1 перенесены в бланк ответов!

Желаем успеха!

Ответом к каждому заданию является конечная десятичная дробь, целое число или последовательность цифр. Запишите ответы к заданиям в поле ответа в тексте работы, а затем перенесите в бланк ответов № 1 справа от номера соответствующего задания. Если ответом является последовательность цифр, то запишите эту последовательность в бланк ответов № 1 без пробелов, запятых и других дополнительных символов. Каждую цифру, знак «минус» и запятую пишите в отдельной клеточке в соответствии с приведёнными в бланке образцами. Единицы измерений писать не нужно.

1 Найдите значение выражения $\frac{31}{15} - 0,3 \cdot \frac{2}{9}$.

Ответ: _____.

2 Найдите значение выражения $\frac{3^{10}}{27^3}$.

Ответ: _____.

3 Площадь земель фермерского хозяйства, отведённая под посадку сельскохозяйственных культур, составляет 49 га и распределена между зерновыми культурами и картофелем в отношении 2:5 соответственно. Сколько гектаров занимают зерновые культуры?

Ответ: _____.

4 Длина биссектрисы l_c , проведённой к стороне c треугольника со сторонами a , b и c , вычисляется по формуле $l_c = \sqrt{ab \left(1 - \frac{c^2}{(a+b)^2} \right)}$. Треугольник имеет стороны 9, 18 и 21. Найдите длину биссектрисы, проведённой к стороне длины 21.

Ответ: _____.

5 Найдите значение выражения $\log_7 0,5 + \log_7 98$.

Ответ: _____.

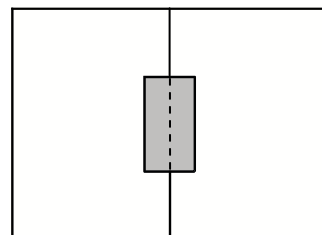
6 В среднем за день во время конференции расходуется 90 пакетиков чая. Конференция длится 9 дней. В пачке чая 50 пакетиков. Какого наименьшего количества пачек чая хватит на все дни конференции?

Ответ: _____.

7 Найдите корень уравнения $\sqrt{14 - 5x} = 3$.

Ответ: _____.

8 Два садовода, имеющие прямоугольные участки размерами 25 м на 30 м с общей границей, договорились и сделали общий прямоугольный пруд размером 10 м на 15 м (см. чертёж), причём граница участков проходит точно через центр пруда. Какова площадь (в квадратных метрах) оставшейся части участка каждого садовода?



Ответ: _____.

9 Установите соответствие между величинами и их возможными значениями: к каждому элементу первого столбца подберите соответствующий элемент из второго столбца.

ВЕЛИЧИНЫ

- А) масса мобильного телефона
- Б) масса одной ягоды клубники
- В) масса взрослого слона
- Г) масса курицы

ВОЗМОЖНЫЕ ЗНАЧЕНИЯ

- 1) 12,5 г
- 2) 4 т
- 3) 3 кг
- 4) 100 г

В таблице под каждой буквой, соответствующей величине, укажите номер её возможного значения.

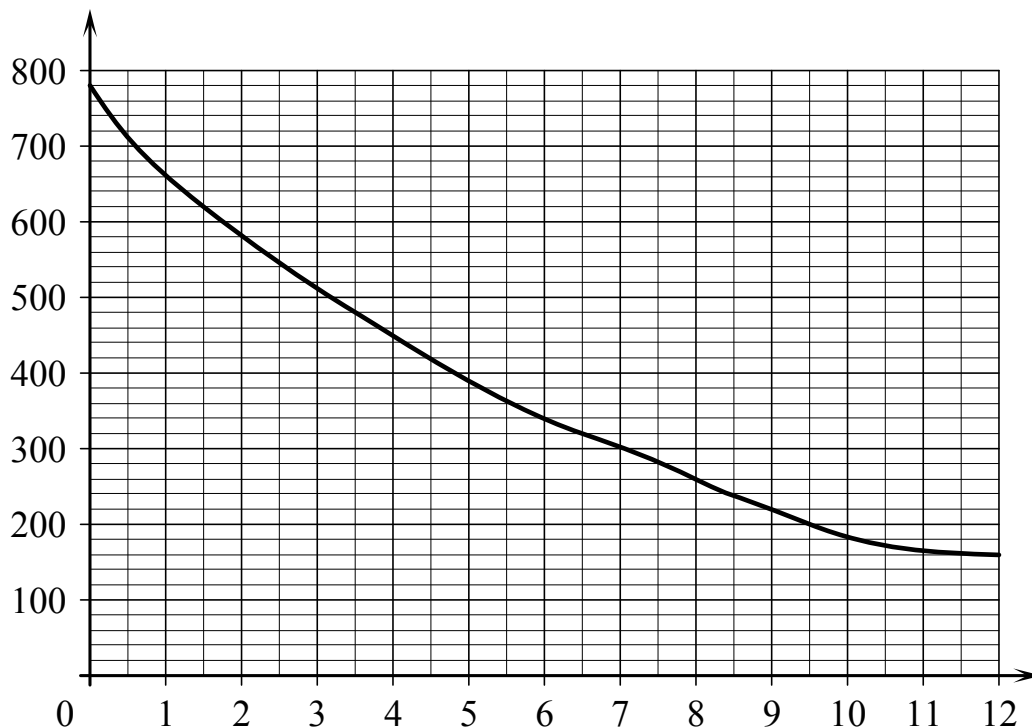
Ответ:

А	Б	В	Г

- 10** Игральную кость с 6 гранями бросают дважды. Найдите вероятность того, что хотя бы раз выпало число, большее 3.

Ответ: _____.

- 11** На графике изображена зависимость атмосферного давления (в миллиметрах ртутного столба) от высоты над уровнем моря (в километрах). Найдите, чему равно атмосферное давление на высоте 6 км. Ответ дайте в миллиметрах ртутного столба.



Ответ: _____.

- 12 Михаил решил посетить Парк аттракционов. Сведения о билетах на аттракционы представлены в таблице. Некоторые билеты позволяют посетить сразу два аттракциона.

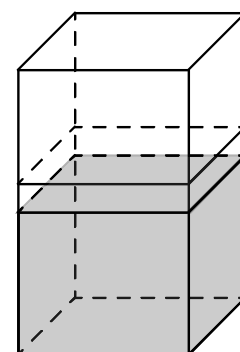
Номер билета	Посещаемые аттракционы	Стоимость (руб.)
1	американские горки	300
2	комната страха, американские горки	400
3	автодром, американские горки	350
4	колесо обозрения	250
5	колесо обозрения, автодром	300
6	автодром	100

Пользуясь таблицей, выберите набор билетов так, чтобы Михаил посетил все четыре аттракциона: колесо обозрения, комнату страха, американские горки, автодром, а суммарная стоимость билетов не превышала 800 рублей.

В ответе укажите ровно один набор номеров билетов без пробелов, запятых и других дополнительных символов.

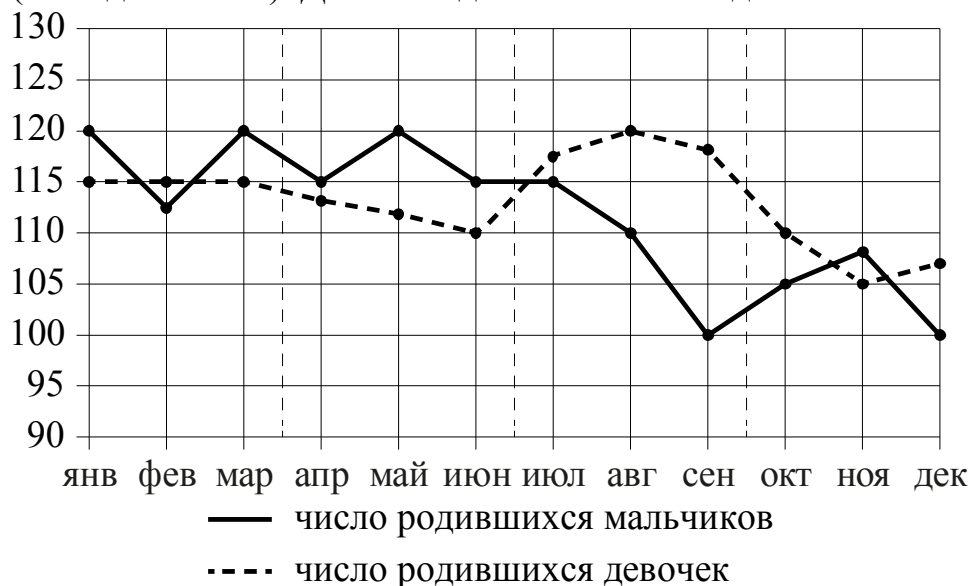
Ответ: _____.

- 13 В бак, имеющий форму правильной четырехугольной призмы со стороной основания, равной 20 см, налита жидкость. Для того чтобы измерить объем детали сложной формы, её полностью погружают в эту жидкость. Найдите объем детали, если уровень жидкости в баке поднялся на 20 см. Ответ дайте в кубических сантиметрах.



Ответ: _____.

- 14 На рисунке точками изображено число родившихся мальчиков и девочек за каждый календарный месяц 2013 года в городском роддоме. По горизонтали указываются месяцы, по вертикали — количество родившихся мальчиков и девочек (по отдельности). Для наглядности точки соединены линиями.



Пользуясь рисунком, поставьте в соответствие каждому из указанных периодов времени характеристику рождаемости в этот период.

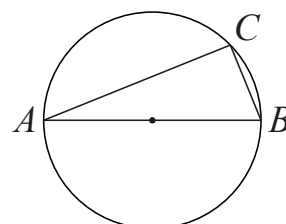
- | ПЕРИОДЫ ВРЕМЕНИ | ХАРАКТЕРИСТИКИ РОЖДАЕМОСТИ |
|---------------------|---|
| А) 1-й квартал года | 1) в каждый месяц периода количество родившихся девочек и мальчиков различались не более чем на 5 |
| Б) 2-й квартал года | 2) рождаемость мальчиков падала быстрее всего |
| В) 3-й квартал года | 3) в каждом месяце мальчиков рождалось больше, чем девочек |
| Г) 4-й квартал года | 4) рождаемость девочек была минимальной |

В таблице под каждой буквой укажите соответствующий номер.

Ответ:

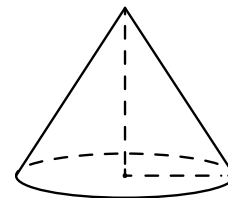
А	Б	В	Г

- 15 На окружности радиуса 3 взята точка C . AB — диаметр окружности, $AC = 2\sqrt{5}$. Найдите BC .



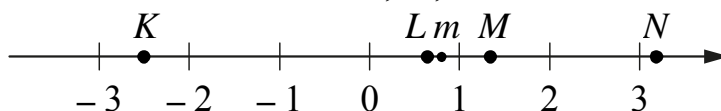
Ответ: _____.

- 16 Объём конуса равен 50π , а его высота равна 6. Найдите радиус основания конуса.



Ответ: _____.

- 17 На прямой отмечено число m и точки K , L , M и N .



Установите соответствие между указанными точками и числами из правого столбца, которые им соответствуют.

ТОЧКИ

- А) K
 Б) L
 В) M
 Г) N

ЧИСЛА

- 1) $4 - m$
 2) m^2
 3) $\sqrt{m+1}$
 4) $-\frac{2}{m}$

Впишите в приведённую в ответе таблицу под каждой буквой соответствующую цифру.

Ответ:

А	Б	В	Г

18 В компании из 20 человек 15 человек пользуется социальной сетью «Facebook», а 10 человек — социальной сетью «ВКонтакте». Выберите утверждения, которые следуют из приведённых данных.

В этой компании

- 1) найдётся хотя бы 5 человек, пользующихся обеими сетями
- 2) найдётся человек, который не пользуется ни сетью «Facebook», ни сетью «ВКонтакте»
- 3) не больше 10 человек пользуются обеими сетями
- 4) не найдётся ни одного человека, пользующегося только сетью «Facebook»

В ответе запишите номера выбранных утверждений без пробелов, запятых и других дополнительных символов.

Ответ: _____.

19 Приведите пример трёхзначного натурального числа большего 500, которое при делении на 6 и на 5 даёт равные ненулевые остатки и средняя цифра которого является средним арифметическим крайних цифр. В ответе укажите ровно одно такое число.

Ответ: _____.

20 В корзине лежат 40 грибов: рыжики и грузди. Известно, что среди любых 17 грибов имеется хотя бы один рыжик, а среди любых 25 грибов хотя бы один груздь. Сколько рыжиков в корзине?

Ответ: _____.

Не забудьте перенести ответы к заданиям в бланк ответов №1.

Анкета участника апробации

Здравствуйте!

Благодарим Вас за участие в апробации новой формы экзамена – ЕГЭ по математике базового уровня. Просим ответить на вопросы анкеты. Ваши ответы очень важны для нас!

Чтобы ответить на вопрос, обведите в кружок букву выбранного варианта ответа.

Например, **б**

Во всех вопросах (кроме вопросов № 7 и № 9) нужно выбрать *только один* вариант ответа.

1. Какая у Вас отметка по алгебре, геометрии или математике за прошлый год? (Если отметки разные, укажите ту, которая выше).

- а) «5»
- б) «4»
- в) «3»
- г) Другое

2. Что Вы собираетесь делать после окончания школы?

- а) Продолжить обучение в вузе, при поступлении в который учитывается результат ЕГЭ по математике
- б) Продолжить обучение в вузе, при поступлении в который не учитывается результат ЕГЭ по математике
- в) Продолжить обучение в техникуме или колледже
- г) Устроиться на работу
- д) Другое

3. Сколько времени в среднем в неделю Вы тратите на домашние задания по математике (алгебре и геометрии вместе)?

- а) Меньше 1 часа
- б) От 1 до 3 часов
- в) Больше 3 часов

4. Сколько у Вас уроков математики (алгебры и геометрии вместе) в неделю в школе?

- а) Менее 4
- б) 4
- в) 5
- г) 6
- д) Более 6

5. Посещаете ли Вы дополнительные занятия по математике помимо уроков в школе?

- а) Посещаю
- б) Не посещаю
- в) Не посещаю, но собираюсь

6. Нравится ли Вам заниматься математикой?

- а) Да
- б) Да, время от времени
- в) Не очень
- г) Нет
- д) Не знаю

7. Выполненная работа показалась Вам (можно выбрать несколько ответов)

- а) легкой
- б) сложной
- в) интересной
- г) скучной
- д) необычной
- е) привычной

8. Разбираетесь ли Вы в компьютерах?

- а) Да, хорошо
- б) Да, средне
- в) Нет, не разбираюсь

9. Пользуетесь ли Вы компьютером? (можно выбрать несколько ответов)

- а) Да, для игр и развлечений
- б) Да, для общения с друзьями
- в) Да, для поиска информации
- г) Да, для работы с фото, видео и т.п.
- д) Да, занимаюсь программированием
- е) Нет, почти не пользуюсь